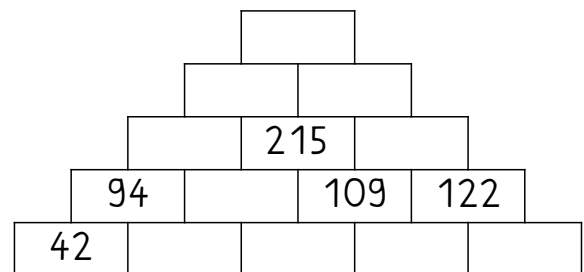
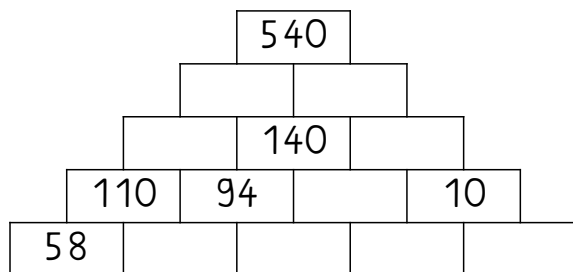
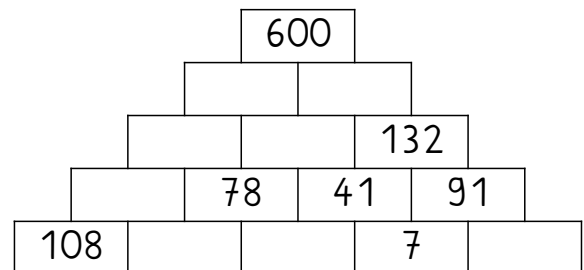
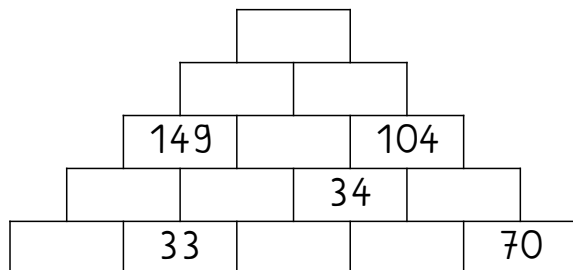


Ergänzende Aufgaben: Addition und Subtraktion im Zahlenraum bis zur Tausend

① Ergänze die Zahlenmauern!



② Berechne die gemischten Aufgaben!

Schreibe falls nötig deinen geschickten Rechenweg auf ein Blockblatt.

155 - 87 =
433 + 212 =
387 + 144 =
314 - 44 =
689 + 89 =
534 - 24 =
989 - 850 =
743 - 555 =
178 + 240 =
443 + 123 =
345 + 123 =

155 + 87 =
321 + 123 =
321 - 123 =
456 + 534 =
1000 - 667 =
453 + 213 =
623 + 87 =
858 - 158 =
878 + 30 + 6 =
523 + 27 + 3 =
125 + 25 + 5 =

