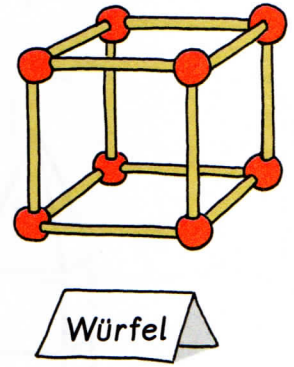
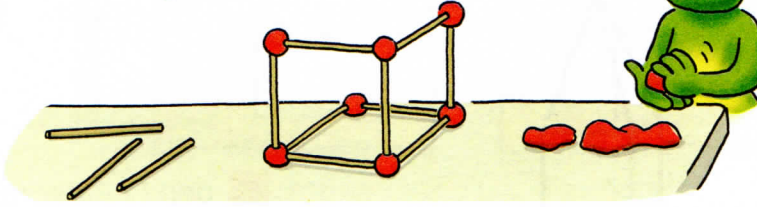


1 Zahlix baut einen Würfel.

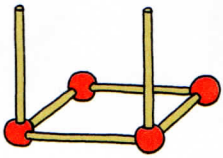
Er braucht ____ gleich lange Hölzer für die Kanten.

Er braucht ____ Kugeln aus Knete für die Ecken.

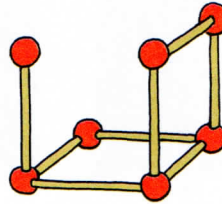


2 Der Würfel ist noch nicht fertig.

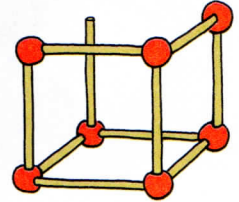
Wie viele Kanten fehlen noch? Wie viele Ecken fehlen noch?



Es fehlen ____ Kanten
noch: ____ Ecken



____ Kanten
____ Ecken



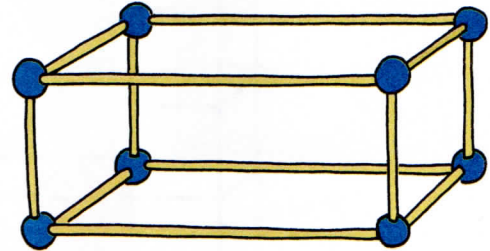
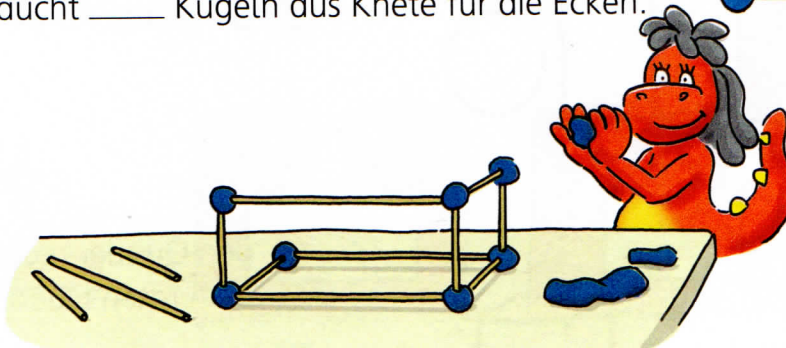
____ Kanten
____ Ecken

3 Zahline baut einen Quader.

Sie braucht ____ lange Hölzer und

____ kurze Hölzer für die Kanten.

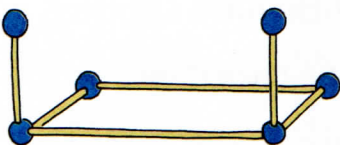
Sie braucht ____ Kugeln aus Knete für die Ecken.



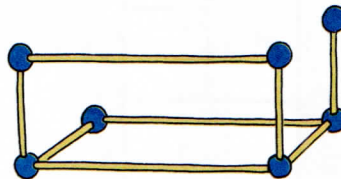
Quader

4 Der Quader ist noch nicht fertig.

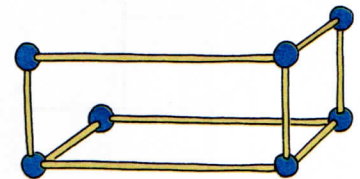
Wie viele Kanten fehlen noch? Wie viele Ecken fehlen noch?



Es fehlen ____ Kanten
noch: ____ Ecken



____ Kanten
____ Ecken



____ Kanten
____ Ecken