

Ecken, Kanten, Flächen am Würfel

1 Schreibe die folgenden Wörter an die richtige Stelle im Lückentext:

Kanten

Flächen

Ecken

_____ pieksen,
 _____ lassen sich mit einem Finger abfahren
 und auf _____ kann man die Hand legen.

2 Schreibe die folgenden Zahlen und Wörter an die richtige Stelle im Lückentext:

6

8


12

Würfel

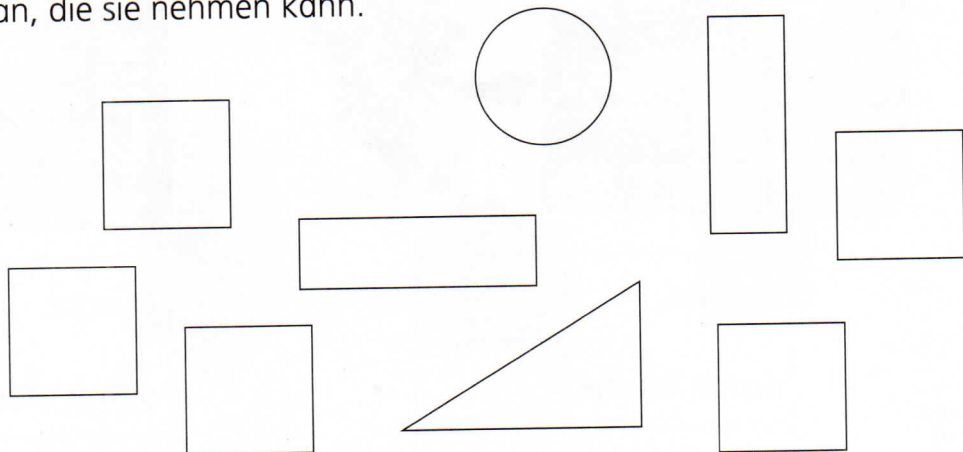

Quadrat

gleich

Ich bin ein _____.
 Ich habe _____ Ecken.
 Ich habe _____ Kanten.
 Alle sind _____ lang.
 Ich habe _____ Seitenflächen.
 Ihre Form ist ein _____.
 Ich bin ein besonderer Quader.



3 Sofie möchte diesen Würfel mit Papier bekleben. Male die Flächen an, die sie nehmen kann.



Reichen die Flächen? _____